



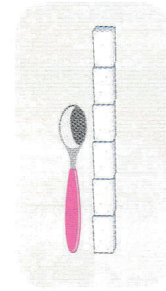
À mon tour

4 Dans cet exercice, 1 morceau de sucre  représente 1 unité.

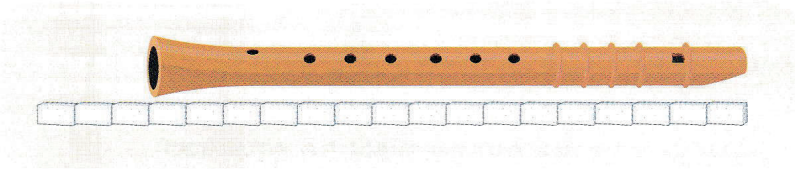
 Complète.



Le livre
mesure environ
10 unités.




La cuillère
mesure environ
4 unités.



La flûte mesure
environ 16 unités.

5

1 unité 



 Complète.

La trace A mesure environ 4 unités.

La trace B mesure environ 3 unités.

La trace C mesure environ 5 unités.

La trace D mesure environ 6 unités.